

Konkurs Geograficzny
dla uczniów szkół podstawowych województwa zachodniopomorskiego
w roku szkolnym 2024/2025

Etap szkolny

Drogi Uczniu!

Prosimy, abyś przed przystąpieniem do rozwiązywania zadań zapoznał się z poniższymi informacjami i wskazówkami.

1. Przed Tobą **25 zadań** do rozwiązania – liczba punktów możliwych do uzyskania podana jest w nawiasie, przy numerze zadania.
2. Liczba punktów do zdobycia za cały test – 40.
3. Dziesięć zadań to zadania zamknięte zawierające cztery odpowiedzi, z których tylko jedna jest poprawna. Znajdź ją i zaznacz.
4. W przypadku pomyłki błędną odpowiedź obwiedź kółkiem i zaznacz nową, poprawną. Jeżeli zaznaczysz więcej niż jedną odpowiedź bez wskazania, która jest prawidłowa, żadna nie zostanie uznana.
5. W przypadku pozostałych zadań działaj zgodnie z poleceniami. Czytaj je bardzo uważnie.
6. Zapisuj wszystkie istotne etapy rozwiązania każdego zadania wymagającego obliczeń.
7. Pisz tylko długopisem lub piórem, nie używaj ołówka, gumki ani korektora.
8. W czasie rozwiązywania zadań możesz używać linijki i prostego kalkulatora.
9. Po zakończeniu pracy sprawdź, czy udzieliłeś wszystkich odpowiedzi.
10. Czas rozwiązywania zadań: **60 minut**.

Powodzenia!

Zadanie 1. (0-1 pkt.)

Na mapie fizycznej Europy widoczna jest kraina geograficzna oznaczona numerem **6**. Jaka to kraina?



<https://pl.pinterest.com/pin/382806037083518625/>

- a) Alpy
- b) Nizina Węgierska
- c) Wyżyna Śląska
- d) Skandynawia

Zadanie 2. (0-1 pkt.)

Uzupełnij zdania korzystając z poniższych określeń:

Dynarskie, Pireneje, Dunaj, Dniepr

1. Rzeka przepływająca przez 10 krajów europejskich to _____.
2. Jedno z głównych pasm górskie w Europie, rozciąga się wzdłuż granicy między Francją a Hiszpanią _____.

Zadanie 3. (0-1 pkt)

Wskaż nazwę największego jeziora na świecie.

- a) Jezioro Bałtyckie
- b) Jezioro Wiktorii
- c) Jezioro Morze Czarne
- d) Jezioro Kaspijskie

Zadanie 4. (0-1 pkt)

Które miasto jest geograficznym środkiem Europy?

- a) Kraków
- b) Suchowola
- c) Warszawa
- d) Szczecin

Zadanie 5. (0-3 pkt)

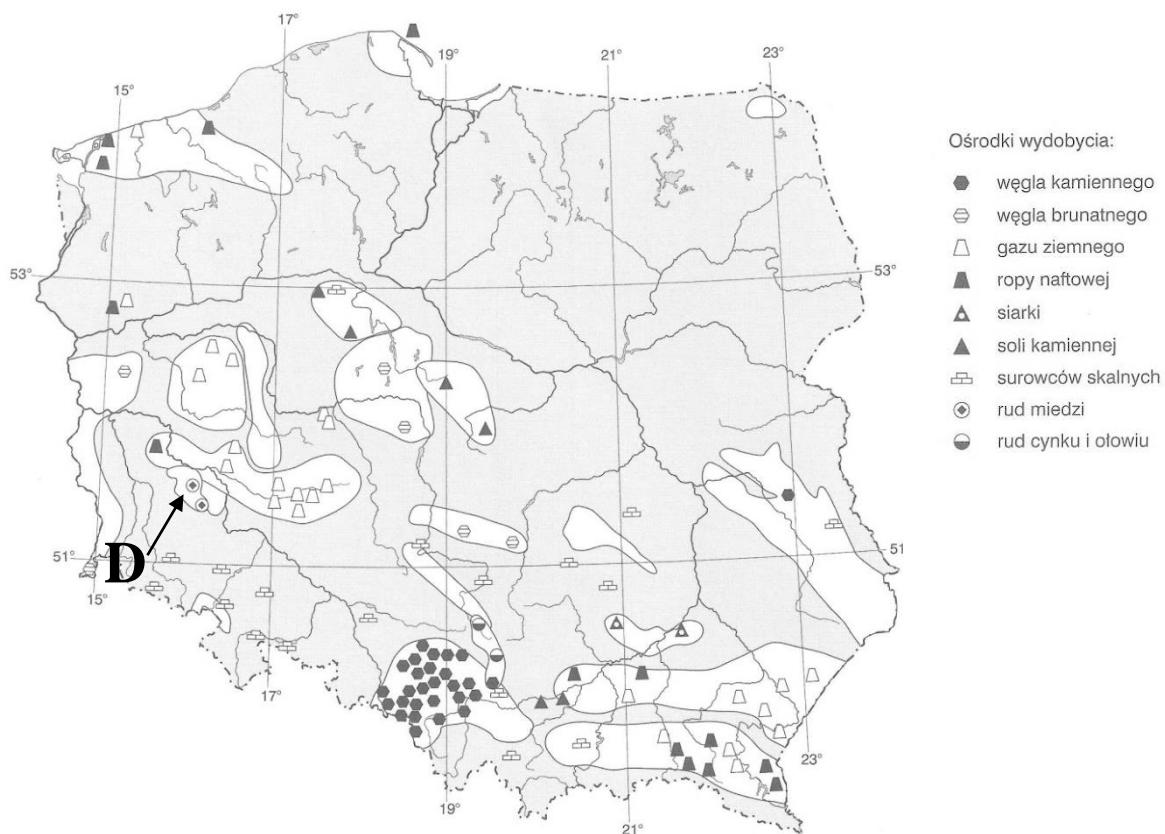
Uzupełnij tabelę, wpisując obok nazwy kontynentu poprawną rzekę i pasmo górskie:

Kontynent	Rzeka	Pasmo górskie
Europa		
Azja		
Afryka		
Ameryka Płn.		

Himalaje, Dunaj, Atlas, Missisipi, Alpy, Nil, Skaliste, Jangcy

Zadanie 6. (0-3 pkt)

Dopasuj poniższe surowce mineralne do regionów w Polsce, w których są one najczęściej wydobywane.



<https://geografical.blogspot.com/2011/10/polska-geologia-i-surowce-mineralne.html>

Surowce mineralne:

- a) węgiel kamienny
- b) węgiel brunatny
- c) ropa naftowa
- d) sól kamienna
- e) rudy miedzi
- f) gaz ziemny

Regiony:

- A. Krosno
- B. Bełchatów
- C. Górny Śląsk
- D. Polkowice
- E. Inowrocław
- F. Tarnów

a)..... b)..... c)..... d)..... e)..... f).....

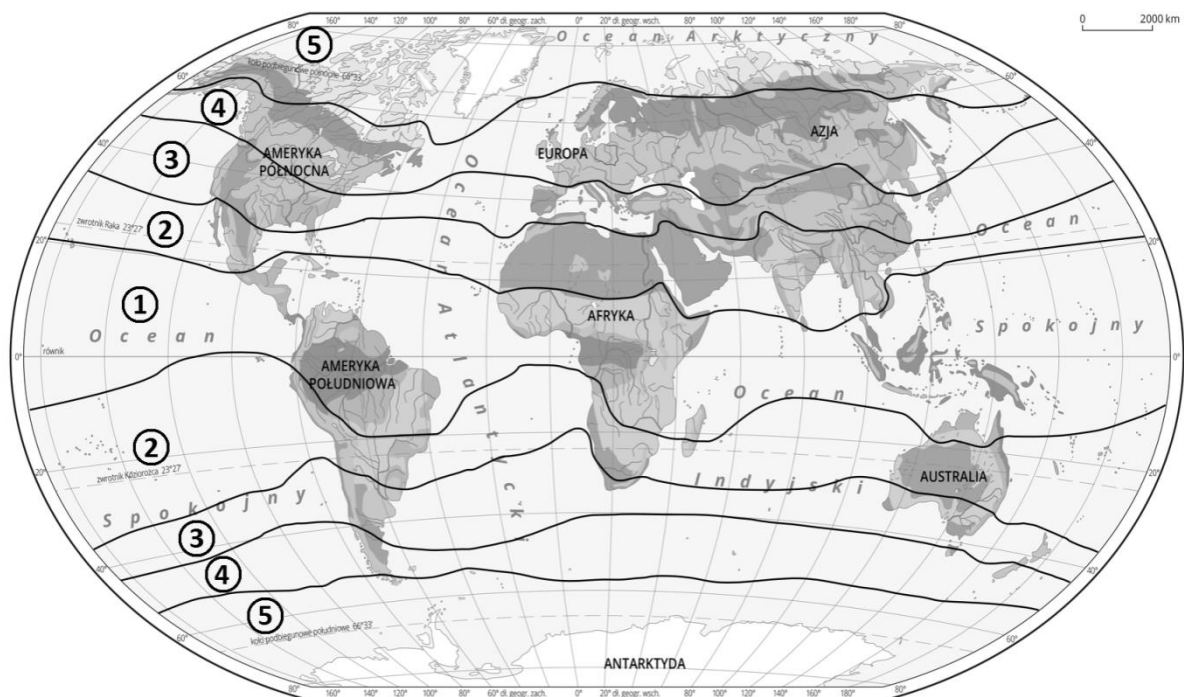
Zadanie 7. (0-1 pkt)

Które z poniższych państw leży w strefie klimatów umiarkowanych?

- a) Brazylia
- b) Kanada
- c) Egipt
- d) Indie

Zadanie 8. (0-1 pkt)

Dopasuj numer strefy klimatycznej do jej nazwy:



Strefa zwrotnikowa.....

Strefa umiarkowana.....

Zadanie 9. (0-2 pkt)

Wpisz obok rodzaju skały ich przykłady :

bazalt, piaskowiec, marmur, wapień, granit, gnejs

a) skały osadowe

b) skały przeobrażone

c) skały magmowe

Zadanie 10. (0-2 pkt)

Na mapie w skali 1:20 000 wysokość budynku wynosi 0,8 cm. Jaką wysokość ma ten budynek w rzeczywistości?

.....
.....
.....
.....

Zadanie 11. (0-2 pkt)

W ciągu tygodnia w różnych miastach zanotowano następujące średnie temperatury: 15°C, 17°C, 14°C, 16°C, 18°C, 19°C, 13°C. Jaką średnią temperaturę obliczysz?

.....
.....
.....

Zadanie 12. (0-2 pkt)

Na mapie w skali 1:350 000 odległość między dwoma punktami wynosi 11 cm. Oblicz odległość rzeczywistą między tymi punktami.

.....
.....
.....

Zadanie 13. (0-2 pkt)

Dopasuj poniższe planety do odpowiedniej kategorii – gazowe (olbrzymy gazowe) lub skaliste (stałe).

Ziemia, Jowisz, Mars, Saturn, Merkury, Uran, Wenus, Neptun

A. planety gazowe.....

B. planety skaliste (stałe).....

Zadanie 14. (0-2 pkt)

Przyporządkuj nazwy stolic do podanych krajów:

a) Hiszpania -

b) Włochy -.....

c) Kanada -

d) Japonia -.....

Tokio Madryt Rzym Ottawa

Zadanie 15. (0-2 pkt)

Przyporządkuj poniższe nazwy do znaków kartograficznych.

Opisy: A. główna droga B. szkoła C. kościół z wieżą D. las E. most



Znaki kartograficzne:

.....



szk.

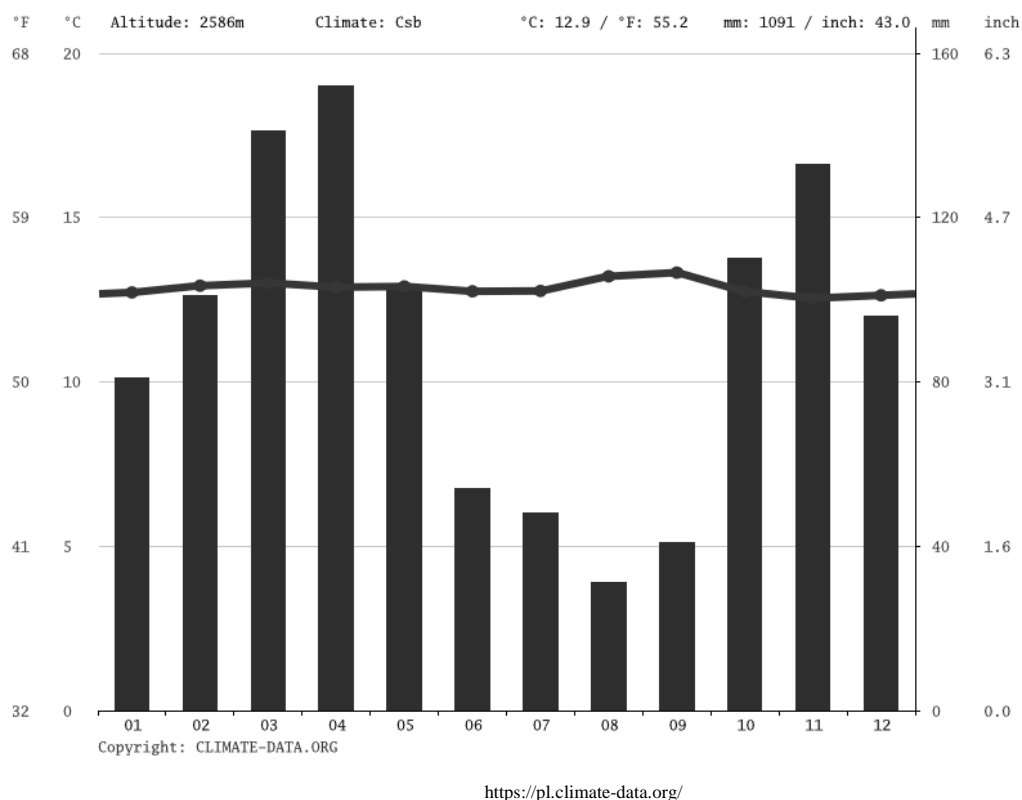
.....



.....

Zadanie 16. (0-1 pkt)

Na klimatogramie przedstawiono miasto z opadami deszczu równomiernie rozłożonymi przez cały rok i temperaturą średnią około 20°C. Jakie miasto mogłoby mieć taki klimatogram?



- a) Berlin
- b) Nowy Jork
- c) Bogota
- d) Moskwa

Zadanie 17. (0-1 pkt)

Dla strefy klimatyczno-roślinnej pustyni charakterystyczne są:

- a) wysokie opady deszczu, roślinność gęsta
- b) zimne i wilgotne warunki, roślinność leśna
- c) wysokie temperatury, dużo wody
- d) niskie opady deszczu, roślinność skąpa

Zadanie 18. (0-1 pkt)

Na mapie świata zaznaczono państwo o kształcie przypominającym literę "L". Jakie to państwo?



<https://pl.maps-chile.com/chile-ameryka-po%C5%82udniowa-mapa#&gid=1&pid=1>

- a) Chile
- b) Peru
- c) Kanada
- d) Australia

Zadanie 19. (0-1 pkt)

W jakim kraju znajduje się największy rezerwat biosfery na świecie?

- a) Kanada
- b) Australia
- c) Brazylia
- d) Mongolia

Zadanie 20. (0-1 pkt)

Jakie zjawisko meteorologiczne jest najbardziej charakterystyczne dla strefy klimatycznej monsunowej?

- a) długotrwałe opady deszczu w czasie lata
- b) ciągle wysokie temperatury przez cały rok
- c) duże różnice temperatury w ciągu dnia i nocy
- d) bardzo niskie opady deszczu

Zadanie 21. (0-3 pkt)

- a) Najwyższy szczyt Mont Everest ma wysokość _____ m n.p.m.
- b) Najgłębsze jezioro słodkowodne na świecie to _____.
- c) Największa delta świata to _____.
- d) Największa pustynia na świecie, która w rzeczywistości jest zimna, to _____.

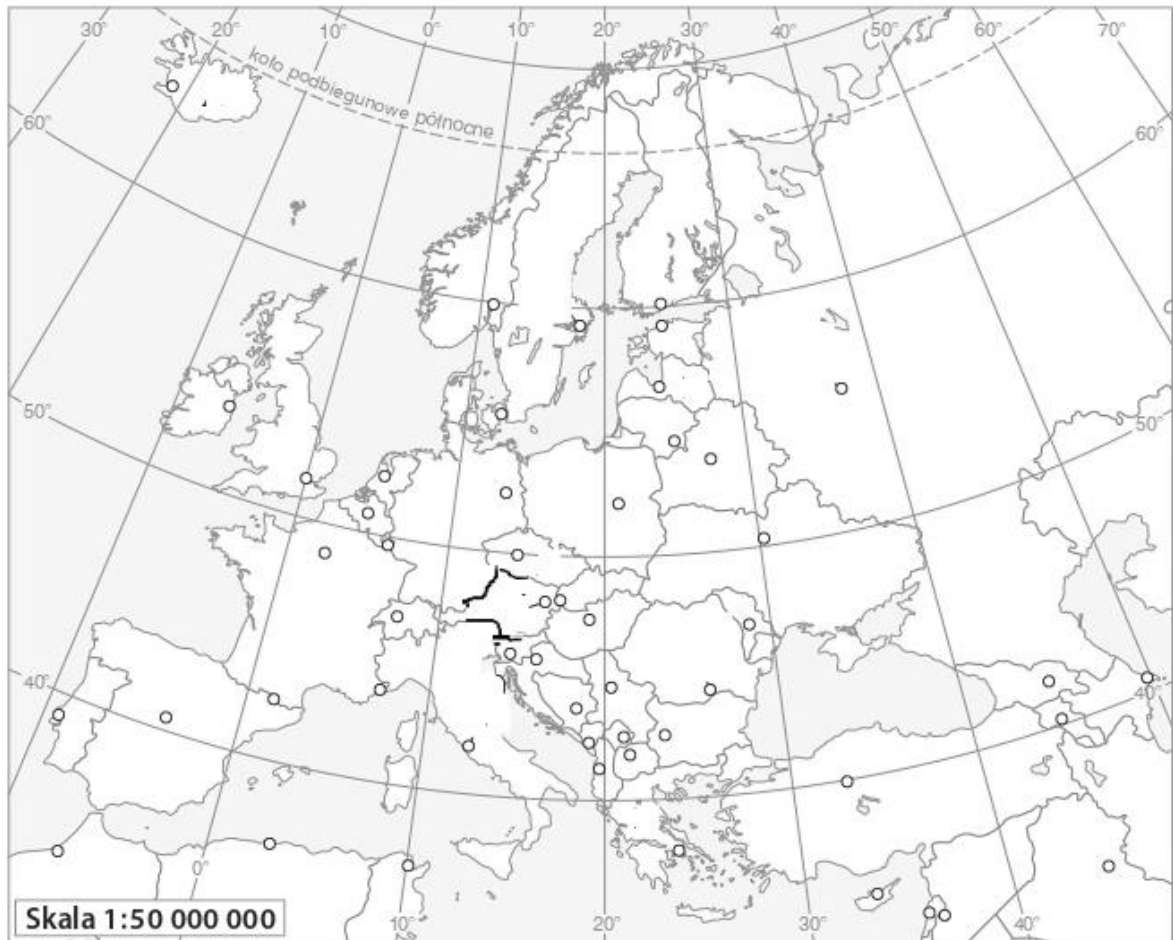
8849, Kaspiskie, Ganges i Brahmaputra, Antarktyda, Bajkał, Dunaj, 8894, Sahara,

Zadanie 22. (0-2 pkt)

- a) Kanada ma największą powierzchnię spośród wszystkich krajów świata.
(Prawda/Falsz)
- b) Sahara jest największą pustynią gorącą na świecie. (Prawda/Falsz)
- c) Europa ma mniejszą liczbę krajów niż Afryka. (Prawda/Falsz)
- d) Na każdym kontynencie znajduje się szczyt o wysokości bezwzględnej przekraczającej 5 000 m n.p.m. (Prawda/Falsz)

Zadanie 23. (0-1 pkt)

Odczytaj nazwę miasta o współrzędnych 48°N i 2°E.



- a) Paryż
- b) Londyn
- c) Amsterdam
- d) Berlin

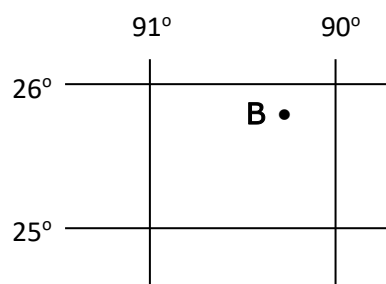
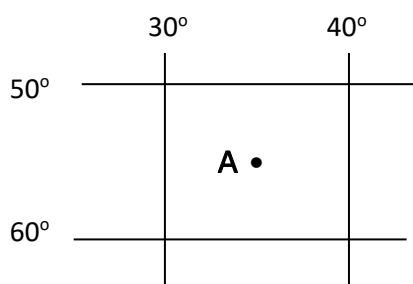
Zadanie 24. (0-1 pkt)

Które gleby są najbardziej żyzne w Polsce?

- A) gleby bielcowe
- B) czarnoziemy
- C) gleby torfowe
- D) gleby lessowe

Zadanie 25. (0-2 pkt)

Określ współrzędne geograficzne punktów A i B. Zachowaj dokładność do 10'.



Szerokość geograficzna

Długość geograficzna

Szerokość geograficzną

Długość geograficzna